

1 Kさんのクラスでは、班に分かれて、水と社会とのかかわりについて調べた。次の問いに答えなさい。

(1) Kさんの班は、海や河川などが水路として利用され、人々が往来し、ものが運ばれたことに興味をもち、港について調べた。次は、Kさんの班がまとめた内容の一部である。

港や船着場を意味する語の一つに「津」がある。瀬戸内海や琵琶湖にも、かつて、いくつかの「津」があった。それらの中には、交易の中心地となり、さまざまな文献に記されているものもある。

① 難波津 ② 遣唐使を乗せた船が出航した港の一つである。『古今和歌集』にある、「なにはづにさくやこのはな冬ごもりいまはるべとさくやこの花」という歌に、この港のことが記されている。

③ 大津 琵琶湖が水路として利用されたときの港の一つである。④ 律令を運用するにあたっての細かな規則をまとめた文献に、都への税の⑤ 運送の経路の一つとして、この港のことが記されている。

⑥ 堺ノ津 ⑦ 南蛮貿易や ⑧ 朱印船貿易を行っていた船が往来した港の一つである。航海に関する、わが国最古とされる文献の中に、この港のことが記されている。

- ① ② 遣唐使の派遣は、7世紀前半に始められ9世紀後半に中止された。次のア～エのうち、遣唐使が派遣されたころのわが国のようすを述べた文として最も適しているものはどれか。一つ選び、記号を書きなさい。
- ア 摂関政治から院政へと政治体制が変化した。
 イ 仁徳天皇陵と伝えられている大仙(大山)古墳がつけられた。
 ウ 稲作とともに、鉄器や青銅器が大陸から伝えられるようになった。
 エ 聖武天皇が国ごとに国分寺などを建て、仏教の力で国を守ろうとした。
- ② ③ 律令に基づいて、奈良時代には戸籍がつくられた。戸籍には名前や年齢などが記され、戸籍に基づいて6歳以上の男女に土地が割り当てられた。この割り当てられた土地は何と呼ばれているか。漢字3字で書きなさい。
- ③ ④ 運送について、鎌倉時代や室町時代には馬借や問(問丸)と呼ばれる運送業者が活動していた。このうち、室町時代に大津を拠点として活動していた馬借の中には土一揆を起こす者もいた。次のア～エのうち、室町時代のようすを述べた文として最も適しているものはどれか。一つ選び、記号を書きなさい。
- ア 和同開珎と呼ばれる貨幣が使われ始めた。
 イ 東海道、中山道などの五街道が整えられた。
 ウ 西廻り航路などの海上輸送路が整備された。
 エ 中国の明との貿易に勘合という合い札が用いられた。
- ④ ⑤ 南蛮貿易は、16世紀中ごろに、ポルトガルの商人がわが国に来航するようになって始まり、貿易船に乗ってキリスト教の宣教師もわが国にやってきた。次のア～エのうち、16世紀中ごろ、わが国にキリスト教を伝えたイエズス会の宣教師はだれか。一つ選び、記号を書きなさい。
- ア コロンブス イ ザビエル ウ マゼラン エ ルソー
- ⑤ ⑥ 朱印船貿易は、17世紀前半に江戸幕府が、禁教と貿易統制などを徹底する政策を始めたことにより衰退した。このような江戸幕府による対外政策は鎖国と呼ばれ、19世紀中ごろまで続けられた。
- (a) 鎖国と呼ばれる政策は、参勤交代の制度を整えるなど江戸幕府の政治体制を確立した3代将軍によって完成された。この江戸幕府の3代将軍はだれか。人名を書きなさい。
 (b) 1858年に江戸幕府はアメリカ合衆国と条約を結び、貿易を行うために、函館・神奈川(横浜)・長崎・新潟・兵庫(神戸)の5港を開港した。この条約は何と呼ばれているか。書きなさい。

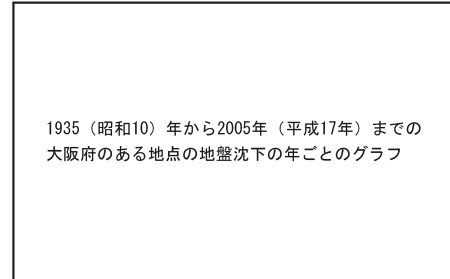
(2) Hさんの班は、地下水が、生活用水、農業用水、工業用水として利用されていることに興味をもち、調べた。次は、Hさんの班がまとめた内容の一部である。

⑦ 大正時代の初期には、地下水を汲み上げる技術が発達したこともあり、地下水の取水量が増加した。このころから、一部の大都市では、⑧ 地盤沈下の現象がみられるようになった。

- ① ⑧ 大正時代のわが国のようすとして正しいものはどれか。次のア～エから二つ選び、記号を書きなさい。
- ア 官営の八幡製鉄所が操業を開始した。
 イ 世界恐慌の影響で不景気が深刻になった。
 ウ シベリア出兵による米の買い占めにより米価が急上昇した。
 エ ヨーロッパへの輸出が増え大戦景気と呼ばれる好景気になった。

② ⑨ 地盤沈下について、図Iは、大阪市内のある地点における1935(昭和10)年の地表面を0cmとして、その地点の年ごとの地表面の高さを2005(平成17)年まで示したものである。

(a) 図I中にAで示された期間においては、図I



第二次世界大戦などが要因となり地下水の取水量が減少した1945(昭和20)年ごろを除いて、地盤沈下が進んでいる。次の各文は、Aで示された期間におけるわが国のようすについて述べたものである。ア～ウについて述べたものである。ア～ウについて年代の古いものから順に記号を解答欄の()に書きなさい。

ア 財閥解体が行われた。
 イ 高度経済成長が始まった。
 ウ 国家総動員法が制定された。

- (b) 図I中にBで示された期間においては、社会問題となった公害に対して、1967(昭和42)年に公害対策基本法が制定された。また、公害で健康や自然環境が被害を受けるとその回復が困難であるため、環境問題へのさらなる取組みが求められた。次の文は、環境問題への取組みについて定めた法律の一つについて述べたものである。文中の(i)に入れるのに適している語を書きなさい。
- 大規模な開発や工事を行うにあたり、自然環境への影響を事前に調査することは、環境(i)と呼ばれ、このことについて定めた環境(i)法が、1997(平成9)年に制定された。

(3) Nさんの班は、水資源の重要性についての関心が国際的に高まってきていることに興味をもち、調べた。次は、Nさんの班がまとめた内容の一部である。

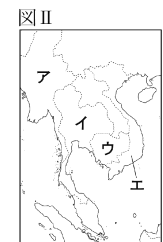
- ⑩ 国際連合の総会において、2013(平成25)年を「国際水協力年」とすることが定められ、安全な飲料水を確保できない人の割合を半減させることなどを目標とし、これらの目標を達成するため、対話と協力を強化することが確認された。
- 大阪府と大阪市などが協力して、海外の水・環境に関する課題の解決に貢献するため、技術交流や課題の解決に向けた提案などを行っている。その一環として、友好関係にある⑪ ベトナムのホーチミン市への上水道に関する支援が2009(平成21)年から行われている。

① ⑫ 国際連合には、さまざまな機関がある。


- (a) 国際連合のおもな機関の一つに安全保障理事会がある。次の文は、安全保障理事会について述べたものである。文中の(a)に当てはまる語を漢字5字で書きなさい。
- 安全保障理事会の(a)は、拒否権を有しており、安全保障理事会の決定に大きな影響力もっている。現在、中国、フランス、ロシア、イギリス、アメリカ合衆国の5か国が(a)である。
- (b) 国際連合の専門機関の一つである「国連教育科学文化機関」により、2013年、富士山は「富士山—信仰の対象と芸術の源泉」の一つとして世界遺産に登録された。「国連教育科学文化機関」を略称で示したものを次のア～エから一つ選び、記号を書きなさい。
- ア PKO イ UNESCO ウ UNICEF エ WHO

② ⑬ ベトナムとわが国は、2013年、外交関係樹立40周年を迎えた。

(a) 図II中のア～エのうち、ベトナムに当たるものはどれか。一つ選び、記号を書きなさい。



(b) 図IIIは、2011(平成23)年における、ある農産物の生産量の多い上位5国を示したものである。この農産物に当たるものを、次のア～エから一つ選び、記号を書きなさい。



(『世界国勢図会』2013/14年版により作成) (一は現在の国界を示す)