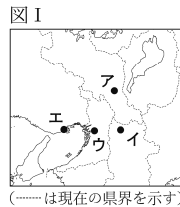


1 わが国の物資の輸送にかかわる次の問いに答えなさい。

(1) 8世紀に、人々は律令にもとづいて調や庸と呼ばれる税を都まで運んで納めていた。

① 平城京や平安京は、中国の都にならってつくられた。図I中のア～エのうち、平城京や平安京がつくられた場所を一つずつ選び、記号を書きなさい。

② 調や庸と呼ばれる税以外にもさまざまな税が納められていた。律令にもとづく班田収授によって口分田を与えられた人々が稲(米)で納めていた税は何と呼ばれているか。漢字1字で書きなさい。



(2) 鎌倉時代や室町時代に、農業や商業などが発達して物資の輸送がさかんになり、陸上輸送において馬借や車借と呼ばれる運送業者が活動した。次のア～エのうち、鎌倉時代や室町時代に、水上輸送の要地である港において年貢の輸送や保管などを行っていた運送業者は何と呼ばれているか。一つ選び、記号を書きなさい。

ア 株仲間 イ 土倉 ウ 寄合 エ 問丸(問)

(3) 室町時代に、能(能楽)が大成された。能の合間に狂言が演じられ、狂言の曲の一つである「昆布売」にはこんぶ(昆布)を運んで売の人が登場し、こんぶが輸送されていたことがうかがわれる。次のア～エのうち、室町時代に能を大成した人物はだれか。一つ選び、記号を書きなさい。

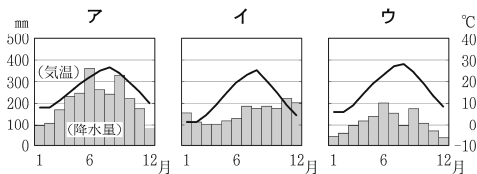
ア 法然 イ 千利休 ウ 世阿弥 エ 狩野永徳

(4) 江戸時代には、西廻り航路など海上輸送路が整備された。東北地方や北陸地方の米などさまざまな物資が運びこまれた大阪は物流の拠点としてにぎわった。

① 江戸時代に、諸藩は年貢米や特産物を保管したり取り引きしたりするための施設を大阪に設けた。この施設は何と呼ばれているか。書きなさい。

② 西廻り航路によって大阪に運びこまれた物資の中には、その後さらに紀伊半島をまわって江戸まで運ばれたものもある。

(a) 山形県に位置する酒田港から輸送された物資が西廻り航路によって大阪にいたり、紀伊半島をまわって江戸に向かうと、さまざまな気候の地域を通過していく。右のア～ウのグラフは、それぞれ、日本海側の気候の特徴をもつ山形県の酒田市、瀬戸内の気候の特徴をもつ大阪府、太平洋側の気候の特徴をもつ和歌山県の潮岬のいずれかの気温と降水量を表したものである。酒田市、大阪府、潮岬に当たるものをア～ウから一つずつ選び、記号を書きなさい。



(「理科年表」平成23年による)

(b) 江戸幕府は、現在の神奈川県に位置する場所に、海上輸送路によって運ばれている物資を検査するための施設を設けた。この施設が設置された場所は、アメリカ合衆国の使節ペリーが日本の開国を求めて来航したことも知られている。次のア～エのうち、1853年にペリーが来航した場所はどこか。一つ選び、記号を書きなさい。

ア 横浜 イ 下田 ウ 浦賀 エ 長崎

③ 商業都市として発展し、江戸時代に「天下の台所」と呼ばれた大阪では、1918(大正7)年に全国でいち早く公設市場が設置された。次のア～エのうち、1918年に大阪で公設市場が設置されたところに起こったできごととして最も適しているものはどれか。一つ選び、記号を書きなさい。

ア 日清戦争の講和条約である下関条約が結ばれた。
イ 福岡県につくられた官営の八幡製鉄所の操業が始まった。
ウ 米の安売りを求めて富山県で起こった米騒動が全国に広がった。
エ 農地改革が実施され、地主の土地が買い上げられて小作農に安く売りわたされた。

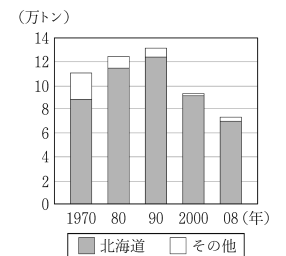
(5) 現在では、交通網が整備されたり輸送技術が発達するなどして、物資の輸送がより活発に行われるようになっている。表Iは、都道府県庁所在地のうち、2008(平成20)年における「こんぶ」とその加工品である「こんぶのつくだ煮」とに対する一世帯当たりの合計支出金額が多い上位5市を表したものである。図IIは、1970(昭和45)年以降のわが国におけるこんぶ類の漁獲量の推移を表したものである。次のP、Qの文は、表I及び図IIから読み取れる内容についてまとめたものである。P、Qの内容について正誤を判定し、あとのア～エから適しているものを一つ選び、記号を書きなさい。

表I 「こんぶ」と「こんぶのつくだ煮」とに対する一世帯当たりの支出金額の合計(2008年)

Table with 2 columns: 都市名, 支出金額(円). Rows include 富山市, 大津市, 福井市, 金沢市, 京都市, 全国平均.

(総務省「家計調査」により作成)

図II こんぶ類の漁獲量の推移(万トン)



(農林水産省の資料による)

P 表I中の都市をそれぞれ含む5つの府県のうちの4つが日本海に面している。図II中に示されたいずれの年においても、北海道の漁獲量は全国の漁獲量の7割以上となっている。

Q 表I中の都市のうち、「こんぶ」と「こんぶのつくだ煮」とに対する支出金額の合計が全国平均の2倍以上となっている都市をそれぞれ含む府県は互いに隣接している。図IIにおいて、全国の漁獲量に占める北海道の漁獲量の割合は2008年が最も低い。

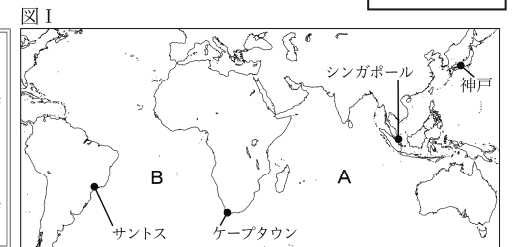
ア P、Qともに正しい。 イ Pは正しいが、Qは誤っている。
ウ Pは誤っているが、Qは正しい。 エ P、Qともに誤っている。

2 わが国で発行された記念貨幣にかかわる次の問いに答えなさい。

(1) 右の写真は、日本からブラジルへの移住100周年を記念して、2008(平成20)年に発行された五百円硬貨である。次の()の中の文は、この硬貨に描かれている船が1908(明治41)年に最初の移住者に乗せて日本を出発し、ブラジルに到着するまでの航路について述べたものである。

記念硬貨の写真

ブラジルに移住する人々を乗せた船は、神戸港を出港し、最初の寄港地であるシンガポールに向かった。シンガポールを出港後()をわたってケープタウンに向かい、ケープタウンから()をわたってサントスに到着した。()赤道を越えて南アメリカ大陸にいたる約50日間の航海であった。



① 図I中のA、Bは、それぞれ、太平洋、大西洋、インド洋のいずれかの海洋を示している。()の中の()にはAで示された海洋が当てはまり、()にはBで示された海洋が当てはまる。次のア～ウのうち、()、()に当てはまるものとして正しいものはどれか。一つずつ選び、記号を書きなさい。

ア 太平洋 イ 大西洋 ウ インド洋

② 赤道を示す線を解答欄の地図図にかきなさい。

(2) 右の写真は、地方自治法施行60周年を記念して、2008年に発行された千円硬貨である。この硬貨には、石見銀山で産出された銀で作られた貨幣が描かれている。石見銀山は、室町時代に開発され、江戸時代には幕府によって直接治められた。また、石見銀山は16世紀にヨーロッパで描かれた世界地図に記載されている。次の各文は、室町時代から江戸時代にかけての世界のようすについて述べたものである。ア～ウについて年代の古いものから順に記号を解答欄の()に書きなさい。

記念硬貨の写真

ア ヨーロッパで宗教改革が起こり、カトリック教会からプロテスタントが分かれた。
イ 北アメリカにおいて、イギリスの植民地の人々がイギリス本国からの独立宣言を発表した。
ウ スペインの援助を受けたコロンブスに率いられた船隊が、アメリカ大陸付近の西インド諸島に到達した。