

1 Mさんのクラスでは、班に分かれて「時代のおすすめの絵画」について調べた。次の問いに答えなさい。

(1) Mさんの班は、物語やできごとが絵と文章によって表現されている絵巻(絵巻物)について調べた。

① 絵巻のなかには、平安時代の貴族や住居のようすが描かれているものもある。平安時代において、自然を庭園に取り入れた貴族の住居の様式は何と呼ばれているか。書きなさい。

② 右の絵は、13世紀に元軍が九州の北部に襲来したようすを描いた絵巻の一部である。



(a) 次のア～エのうち、この絵巻に描かれたできごとが起こったころのようすとして正しいものはどれか。一つ選び、記号を書きなさい。

ア 南北朝の内乱が続いていた。 イ 平清盛が太政大臣として実権を握っていた。
ウ 執権の北条氏が実権を握っていた。 エ 摂関政治から院政へと政治体制が変化した。

(b) この絵巻が描かれたころ、御家人のなかには借金などによって土地を失い生活が苦しくなる者もあった。幕府は御家人を救済するために、失った土地を無償で取り戻させようとして法令を出した。1297年に出されたこの法令は何と呼ばれているか。書きなさい。

(2) Nさんの班は、16世紀から17世紀にかけて制作されたさまざまな屏風絵について調べた。次のカードは、Nさんの班が調べた屏風絵に描かれている内容をまとめたものである。

「洛中洛外図屏風」
京都の景観や、農業、商業、手工業のようすが描かれている。また、かぶき踊りなどが興行される小屋や祇園祭のようすなども描かれている。

「南蛮屏風」
ポルトガル人やスペイン人が貿易をするために日本に來航したようすが描かれている。また、港に停泊する船や、イエズス会の人々も描かれている。

① かぶき踊りは、後に歌舞伎となり、わが国の伝統文化の一つに発展した。次のうち、安土桃山時代から江戸時代の初めにかけてかぶき踊りを始めた人物はどれか。一つ選び、記号を書きなさい。

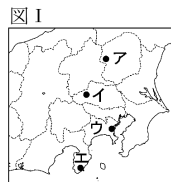
ア 世阿弥 イ 千利休 ウ 出雲阿国 エ 近松門左衛門

② ポルトガル人やスペイン人は、15世紀から16世紀にかけて新しい航路を開拓し、その航路を利用してアジアで貿易を行っていた。次の文は、新しい航路の開拓について述べたものである。文中の〔 〕から適切なもの一つずつ選び、記号を書きなさい。

ポルトガルが派遣したバスコダガマは、アフリカ大陸の南端をまわり、今日の④〔ア インド インドネシア ウ シンガポール〕に当たる国に到達する航路を開拓した。スペインが派遣したマゼランは、南アメリカ大陸の南端に到達した後、今日の⑤〔エ 大西洋 オ 太平洋〕に当たる海をわたり、アジアに到達した。

(3) Kさんの班は、フランスから来日して日本のようすを描いたビゴーに興味をもち、調べた。

① ビゴーが来日した1882(明治15)年ごろの日本では、自由民権運動が広がっており、一部の自由党员や生活に苦しむ農民などによる事件が起こるようになっていた。その中でも、1884(明治17)年に埼玉県で起こった秩父事件は大規模なものであった。秩父事件が起こった場所を図I中のア～エから一つ選び、記号を書きなさい。



(……は現在の県界を示す)

② ビゴーは、日本人のようすや、日本の近代化に対する風刺画などを描いた。右の【資料】は、1888(明治21)年にビゴーが描いた風刺画である。



【資料】

(a) 【資料】は、一部の旧藩の出身者によって政治が行われていることを表現したものである。この風刺画が描かれたころ、内閣制度を創設して初代内閣総理大臣となり、大日本帝国憲法の草案の作成にも尽力した人物はどれか。次から一つ選び、記号を書きなさい。
ア 原敬 イ 犬養毅 ウ 吉田茂 エ 伊藤博文

(b) ビゴーが日本に在任していたころ、明治政府は、欧米諸国との間で幕末に締結された条約の改正に取り組んでいた。1894(明治27)年に、その条約の一部が改正されて欧米諸国がもつ権利が撤廃され、日本は在任する外国人の裁判を日本の裁判所で行うことができるようになった。1894年に撤廃されたこの権利は何と呼ばれているか。書きなさい。

③ ビゴーは1899(明治32)年に帰国し、その後も1920年代まで日本に関する作品を描いた。次の各文は、19世紀末から20世紀前半にかけての日本のようすについて述べたものである。ア～ウについて年代の古いものから順に記号を解答欄の〔 〕に書きなさい。

ア パリで開かれた会議に参加し、ベルサイユ条約に調印した。

イ 義和団事件の後、対立が深まったロシアとの戦争が始まった。

ウ ヨーロッパ諸国への輸出が増加し、大戦景気と呼ばれる好景気が始まった。

2 近代における民主政治に関する次の問いに答えなさい。

(1) 近代の民主政治においては、議会制民主主義が採用され、人権尊重の考え方が重視されている。

① 次の文は、17世紀のヨーロッパにおいて議会を重視した政治体制を確立した国について述べたものである。〔 〕の中の文の内容に当てはまる国はどこか。現在の国名を書きなさい。

17世紀に二度の革命が起こり、1689年に権利章典を制定した国である。この国で生まれたロックは、専制政治を批判し、議会在優位に立つ政治機構が必要であることを説いた。

② 日本国憲法は、自由権や平等権、社会権などの基本的人権を保障している。社会権のうち、日本国憲法第25条において記されている「健康で文化的な最低限度の生活を営む権利」は何と呼ばれているか。書きなさい。

(2) 今日、わが国では、議会制民主主義を採用し、選挙によって代表者が選出されている。

① わが国では、1890(明治23)年に第1回の衆議院議員総選挙が実施され、2009(平成21)年までに45回の総選挙が実施されている。表Iは、1898(明治31)年、1930(昭和5)年及び1947(昭和22)年における20歳以上の人口に占める選挙権を有する者の割合を示したものである。表Iで示した選挙権を有する者の割合の変化は、選挙法の改正により選挙権を有する者の資格が改められたことと関連がある。選挙権を有する者の資格について、表I中のA～Cに当てはまるものを次のア～エから一つずつ選び、記号を書きなさい。

衆議院議員総選挙が実施された年	20歳以上の人口に占める選挙権を有する者の割合	選挙権を有する者の資格
1898年	2.0%	A
1930年	37.3%	B
1947年	96.8%	C

(総務省の資料により作成)

ア 20歳以上の男女 イ 25歳以上の男子
ウ 30歳以上の男女 エ 直接国税を15円以上納める25歳以上の男子

② 2010(平成22)年7月には、わが国で参議院議員選挙が実施された。

(a) 次のア～エのうち、わが国で2010年7月に実施された参議院議員選挙の選挙制度に関する内容として正しいものはどれか。二つ選び、記号を書きなさい。

ア 一つの選挙区から一人の議員を選出する小選挙区制と、比例代表制とが組み合わせられた制度。
イ 都道府県を単位とした選挙区制と、比例代表制とに分けて行われる制度。
ウ 被選挙権は25歳以上で、当選議員数は480名。
エ 被選挙権は30歳以上で、当選議員数は121名。

(b) 次のア～エのうち、参議院で行われることは何か。一つ選び、記号を書きなさい。

ア 予算案の作成 イ 内閣不信任の決議
ウ 法律案の議決 エ 最高裁判所長官の指名

(c) 次の文は、日本国憲法で規定されている参議院の緊急集会について述べたものである。文中の〔 〕に入れるのに適している内容を簡潔に書きなさい。

内閣は、〔 〕され参議院が閉会中に国に緊急の必要があるときは、参議院の緊急集会を求めることができる。

3 人々の生活や産業の発展に活用されている金属に関する次の問いに答えなさい。

(1) 銅や鉄は、古くからわが国で産出され、活用されてきた。

① 『古事記』や『日本書紀』などには、わが国でさまざまな鉱物が産出されていたことが記されている。銅は、富本銭や和同開珎と呼ばれる貨幣などに使用されていた。次のア～エのうち、和同開珎がつくられた時期として適しているものを一つ選び、記号を書きなさい。

ア 5世紀 イ 6世紀 ウ 7世紀 エ 8世紀

② 江戸時代になると銅山の開発が盛んとなり、17世紀末には別子銅山から大量の銅が産出された。

(a) 別子銅山は、図Ⅰ中のAに位置していた。別子銅山が位置していた場所を現在の県名で書きなさい。

(b) 江戸幕府は、銅銭のほか、金貨や銀貨をつくり全国に流通させた。17世紀の後半になると幕府の支出は増大し、財政難となることもあった。17世紀末に、質を落とした貨幣を大量に発行するなど幕府の財政収入を増加させるための政策を行った江戸幕府の5代将軍はだれか。人名を書きなさい。

③ 現在の釜石市では、江戸時代末から、鉱山で産出された鉄鉱石を原料として、鉄鉱石から鉄を取り出す高炉という設備を利用した鉄の生産が行われていた。明治時代になると、はじめての官営による製鉄所が釜石につくられた。

(a) 釜石市は、盛岡市を県庁所在地とするB県にある。B県の県名を書きなさい。
(b) 明治政府は、釜石の製鉄所の操業にあたり、ヨーロッパの技術を取り入れる目的でC国の技師を招いた。明治政府は、憲法草案の作成の際にも君主権の強いC国の憲法を研究し模範とした。C国の現在の国名を書きなさい。また、次のア～エのうち、現在のC国に関する内容として正しいもの一つを選び、記号を書きなさい。

ア 地中海に面している。 イ スペインに隣接している。
ウ 国土の大部分が温帯に属している。 エ 北緯40度より低緯度に位置している。

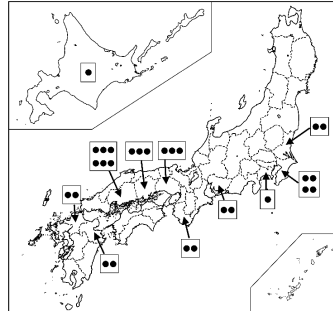
(2) 現在のわが国では、鉄鋼の生産がさかんである。

① 表Ⅰは、2008(平成20)年における鉄鋼の出荷額の多い上位5府県を表したものであり、図Ⅱは、日本にある大型高炉の数を都道府県別に表したものである。次のP、Qの文は、表Ⅰ及び図Ⅱから読み取れる内容についてまとめたものである。P、Qの内容について正誤を判定し、あとのア～エから適しているもの一つを選び、記号を書きなさい。

表Ⅰ 鉄鋼の出荷額(2008年)(単位 十億円)

Table with 2 columns: 都道府県, 出荷額. Rows: 愛知 (3,176), 兵庫 (2,194), 千葉 (2,085), 大阪 (1,781), 広島 (1,601), 全国 (22,569).

図Ⅱ 大型高炉の数(2008年6月現在)



(大型高炉とは、炉内容積が2,000㎡以上の高炉である)(.....は県界を、●は大型高炉1基を示す)

(『鉄鋼統計要覧』2008年版により作成)

P 大型高炉のある都道府県は、いずれも海に面している。また、鉄鋼の出荷額の多い上位5府県のなかには、大型高炉のない府県がある。

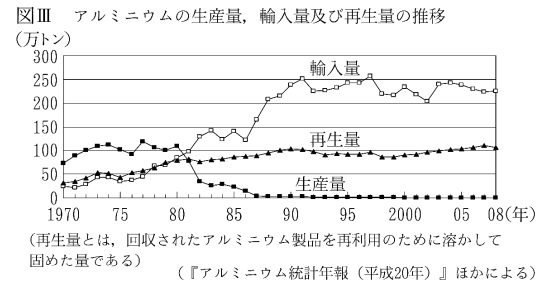
Q 大型高炉が3基以上ある都道府県は、いずれも鉄鋼の出荷額の多い上位5府県に含まれている。また、鉄鋼の出荷額の多い上位5府県の出荷額の合計は、全国の出荷額の半分以上となっている。

ア P、Qともに正しい。 イ Pは正しいが、Qは誤っている。
ウ Pは誤っているが、Qは正しい。 エ P、Qともに誤っている。

② 日本は、鉄鋼生産の原料である鉄鉱石と石炭をD国などから輸入している。国土のすべてが赤道より南に位置するD国は鉄鉱石の主要な産出国であり、日本にとって鉄鉱石や石炭の主要な輸入先である。D国の国名を書きなさい。

(3) アルミニウムを原料とする工業製品は、国民生活に広く利用されている。

① 図Ⅲは、1970(昭和45)年以降のわが国のアルミニウムの生産量、輸入量及び再生量の推移を表したものである。次の文は、図Ⅲから読み取れる内容をまとめたものである。(㉔)に当てはまる語を書きなさい。また、(㉕)に入れるのに適している内容を、「生産量」「輸入量」「再生量」の三語を用いて簡潔に書きなさい。



1970年代には、アルミニウムの生産量が輸入量や再生量を上回っていた。1973(昭和48)年に(㉔)と呼ばれる経済の混乱が起こり、原油の国際価格が高騰した。わが国では、このことによって電気料金が上がり、多くの電力を必要とするアルミニウム生産にかかる費用が高くなった。その結果、1981(昭和56)年以降は、(㉕)。

② アルミニウムを原料とする工業製品などの取り引きが公正に行われぬ場合、消費者にとって不利益になることがある。わが国では市場における不公正な取り引きを防ぐ目的で、公正取引委員会が設置されている。次の文は、公正取引委員会について述べたものである。[]に当てはまる語を漢字4字で書きなさい。
公正取引委員会は、国民経済の民主的で健全な発達を促進することなどを目的とする [] 法と呼ばれる法律に基づき、設置されている。

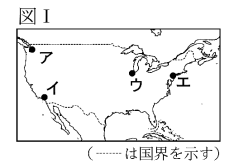
4 国際連合に関する次の問いに答えなさい。

(1) 国際連合は、1945(昭和20)年に51か国で発足した。

① 国際連合の本部がある都市はどこか。都市名を書きなさい。また、その位置を図Ⅰ中のア～エから一つ選び、記号を書きなさい。

② 次のア～エのうち、国際連合について述べた文として誤っているものはどれか。一つ選び、記号を書きなさい。

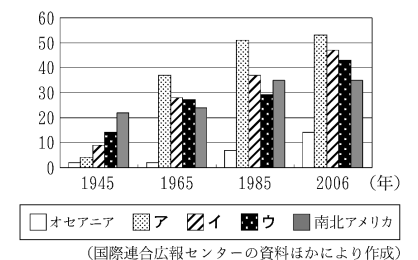
- ア 総会は、すべての加盟国によって構成されている。
イ 世界的な景気の低迷に際しニューディール政策を実施した。
ウ 安全保障理事会では、議決に際して常任理事国である5か国に拒否権の行使を認めている。
エ 子どもの権利条約(児童の権利に関する条約)など人権にかかわる条約や規約を採択した。
③ 次のア～エのうち、日本が国際連合に加盟した年と同じ年に起こったできごととして正しいものはどれか。一つ選び、記号を書きなさい。
ア 日本とソビエト連邦との国交が回復された。
イ ボツダム宣言が受諾された。
ウ サンフランシスコ平和条約が締結された。
エ 日本国憲法が施行された。



(2) 図Ⅱは、国際連合の加盟国数の推移を表したものであり、図Ⅱ中のア～ウは、アジア、アフリカ、ヨーロッパのいずれかの地域に当たる。加盟国数の推移について述べた次の二つの文をもとに、アジア、アフリカ、ヨーロッパに当たるものを図Ⅱ中のア～ウからそれぞれ一つ選び、記号を書きなさい。

- ・アフリカでは、多くの国々が独立を達成した後に加盟したため、アジアの加盟国数より多くなった。
・ヨーロッパでは、冷戦終結後に加盟国が増加したため、南北アメリカの加盟国数より多くなった。

図Ⅱ 国際連合の加盟国数の推移



受検 番号	番
----------	---

得点	
----	--

平成 23 年度大阪府学力検査問題

社会 解答用紙

1 点	(1)	①			
	(点)	②	(a)		
		(b)			
(2)	①				
(点)	②	a	b		
(3)	①				
	(点)	②	(a)		
		(b)			
③	() → () → ()				

2 点	(1)	①			
	(点)	②			
(2)	①	A	B	C	
	②	(a)			
		(b)			
(c)					

3 点	(1)	①			
	(点)	②	(a)	県	
		(b)			
③	(a)	県			
	(b)	(国名)	(記号)		
(2)	①				
	(点)	②			
(3)	①	㊦			
		㊧			
	②				

4 点	(1)	①	(都市名)	(記号)
	(点)	②		
		③		
(2)	②	(アジア)		
		(アフリカ)		
		(ヨーロッパ)		